

Je m'appelle Abbey

Date vendredi 7 janvier

### Les angles

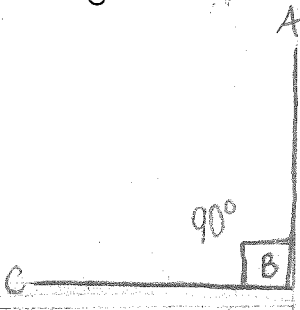
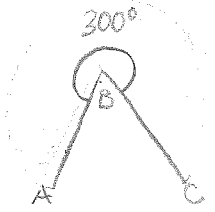
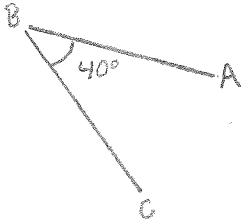




1. Qu'est-ce qu'un angle?

C'est 2 ligne qui se touche à un Sommet.

2. Quel symbole représente un angle?  $\sphericalangle$

3. Quel symbole usuel signifie degré? Exemple  $10^\circ$

4. Dessine:

<p>un angle droit</p> 	<p>un angle rentrant</p> 	<p>un angle aigu</p> 
<p>un angle obtus</p> 	<p>un angle nul</p> 	<p>un angle plein</p> 
<p>Un angle plat</p> 		

5. Qu'est-ce c'est le sommet d'un angle? Exemple




6. Comment s'appelle l'instrument qu'on utilise pour mesurer les angles?

C'est un rapporteur d'angle

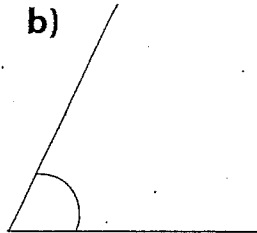
7. Utilise cet instrument pour mesurer chaque angle.

a)




150°

b)



65°

c)



90°

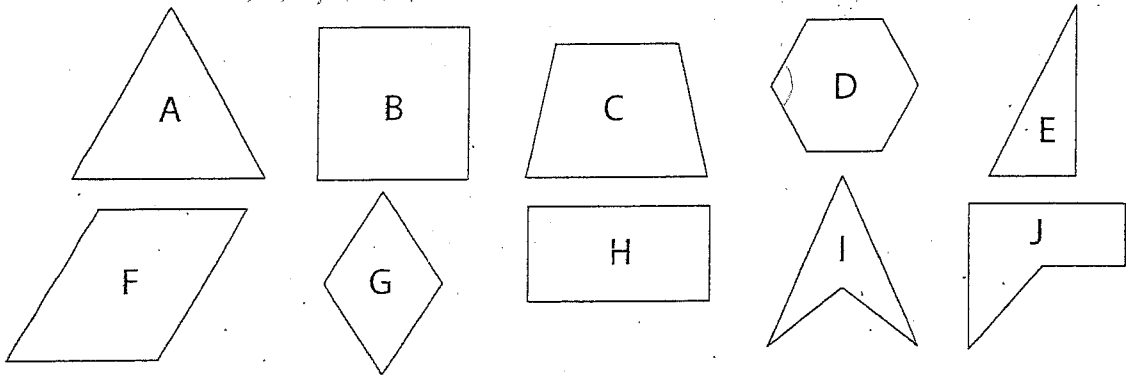
6. Quelles formes ont...

a. un angle droit B, H, J, E

b. un angle obtus C, D, G, F

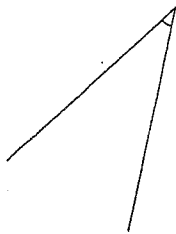
c. un angle aigu A, C, E, F, G, I, J

b. un angle rentrant I, J



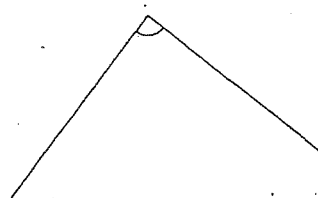
7. Nomme chaque angle.

a)



un angle aigu

b)



un angle droit

c)



un angle obtus

d)



un angle rentrant